




Vestibular UESPI 2008



Universidade
Estadual do Piauí

PROVA III – Tipo 3
Geografia – História
DATA: 10/12/2007 – HORÁRIO: 8h às 11h30min (horário do Piauí)

LEIA AS INSTRUÇÕES:

1. Você deve receber do fiscal o material abaixo:
 - a) Este caderno com 60 questões objetivas sem repetição ou falha.
 - b) Um CARTÃO-RESPOSTA destinado às respostas objetivas da prova.
2. Verifique se este material está completo e se seus dados pessoais conferem com aqueles constantes do CARTÃO-RESPOSTA.
3. Após a conferência, você deverá assinar seu nome completo, no espaço próprio do CARTÃO-RESPOSTA utilizando caneta esferográfica com tinta de cor azul ou preta.
4. Escreva o seu nome nos espaços indicados na capa deste CADERNO DE QUESTÕES, observando as condições para tal (assinatura e letra de fôrma), bem como o preenchimento do campo reservado à informação de seu número de inscrição.
5. No CARTÃO-RESPOSTA, a marcação das letras correspondentes às respostas de sua opção, deve ser feita com o preenchimento de todo o espaço do campo reservado para tal fim.
6. Tenha muito cuidado com o CARTÃO-RESPOSTA, para não dobrar, amassar ou manchar, pois este é personalizado e em hipótese alguma poderá ser substituído.
7. Para cada uma das questões são apresentadas cinco alternativas classificadas com as letras (A), (B), (C), (D) e (E); somente uma responde adequadamente ao quesito proposto. Você deve assinalar apenas **uma alternativa para cada questão**: a marcação em mais de uma alternativa anula a questão, **mesmo que uma das respostas esteja correta**; também serão nulas as marcações rasuradas.
8. As questões são identificadas pelo número que fica à esquerda de seu enunciado.
9. Os fiscais não estão autorizados a emitir opinião nem a prestar esclarecimentos sobre o conteúdo das provas. Cabe única e exclusivamente ao candidato interpretar e decidir a este respeito.
10. Reserve os 30(trinta) minutos finais para marcar seu CARTÃO-RESPOSTA. Os rascunhos e as marcações assinaladas no CADERNO DE QUESTÕES não serão levados em conta.
11. Quando terminar sua Prova, antes de sair da sala, assine a LISTA DE FREQUÊNCIA, entregue ao Fiscal o CADERNO DE QUESTÕES e o CARTÃO-RESPOSTA, que deverão conter, respectivamente, sua assinatura e assinatura/impressão digital, a serem coletadas por este.
12. O TEMPO DE DURAÇÃO PARA ESTA PROVA É DE **3h 30min**.
13. Por motivos de segurança, você somente poderá ausentar-se da sala de prova após decorridas **2 (duas) horas** do início desta.

Nº DE INSCRIÇÃO

--	--	--	--	--	--

Assinatura

Nome do Candidato (letra de fôrma)



GEOGRAFIA

- 01.** O método geográfico é constituído por cinco princípios. Assim, ao estudar uma determinada área, o geógrafo deve, inicialmente, localizá-la, demarcando os seus limites; em seguida, compará-la com outras áreas, identificando semelhanças e diferenças; após fazer isso, ele estabelece as relações de causa e efeito. No próximo passo, ele deve observar a integração e a interdependência existente entre os fatores físicos e humanos e, por fim, observar o caráter dinâmico, as mudanças que ocorreram na área ao longo do tempo. Assim, seguindo essa ordem, o geógrafo terá aplicado em seu estudo os seguintes princípios:
- extensão, causalidade, analogia, conexão e atividade.
 - limitação, Geografia Geral, causalidade, abrangência e analogia.
 - extensão, casualidade, analogia, conexão e futurologia.
 - extensão, analogia, causalidade, conexão e atividade.
 - caracterização, limitação, causalidade, relação e movimentação.
- 02.** Em uma visão determinista, muito presente na Geografia até os anos 50 do século XX, o meio natural exercia uma grande influência sobre o homem. Esta visão é característica da chamada *Escola Determinista*, fundada e propagada por:
- Frederico Ratzel.
 - Bernardo Varenius.
 - Vidal de la Blache.
 - Jean Brunhes.
 - Estrabão.
- 03.** A taxa de crescimento demográfico de um país é calculada, levando-se em consideração o comportamento de alguns indicadores populacionais. Esses indicadores são:
- taxas de fecundidade e mortalidade.
 - taxas de natalidade e mortalidade infantil.
 - optimum* de população e taxa de natalidade.
 - taxas de natalidade, mortalidade e balanço migratório.
 - taxa de natalidade e expectativa de vida.
- 04.** Na Ásia Monçônica, está agrupada quase que a metade da população mundial. Nessa região, podemos encontrar:
- a porção setentrional e ocidental da China.
 - os vales dos rios Amarelo e Azul, na China.
 - a porção central e meridional do Japão.
 - o Oriente Médio.
 - os vales dos rios Tigre e Eufrates.
- 05.** Algumas áreas do globo terrestre que, em um passado histórico recente, foram consideradas como anecumênicas, hoje, com o desenvolvimento tecnológico, a pesquisa científica e o emprego de capital, têm porções incorporadas ao processo produtivo dos países onde se encontram localizadas. Estamos nos referindo às áreas de:
- desertos quentes.
 - pradarias.
 - elevadas montanhas.
 - várzeas de rios.
 - interflúvios.
- 06.** Os geógrafos, ao estudarem os movimentos populacionais, devem levar em consideração, nesses deslocamentos, duas variáveis que são preocupações da Ciência Geográfica: espaço e tempo. A respeito desses movimentos, analise as afirmações a seguir.
- As migrações sazonais são exemplos de deslocamentos populacionais que ocorrem por tempo indeterminado.
 - Os corumbas são trabalhadores do Agreste que se deslocam para a região da Mata, a fim de trabalhar no corte e na moagem da cana-de-açúcar, no período do ano em que estas atividades ocorrem.
 - Os brasiguaios realizam uma migração interna continental.
 - No campo brasileiro, é comum se perceber a migração pendular, representada pelo deslocamento cidade/campo, pela manhã e, campo/cidade, ao anoitecer.
 - A demanda crescente pelo etanol brasileiro vem provocando deslocamentos de trabalhadores rurais de certas áreas do Nordeste para o Centro-Sul do país.
- Estão corretas apenas:
- 2 e 3
 - 3 e 4
 - 1, 2 e 4
 - 3, 4 e 5
 - 2, 4 e 5
- 07.** Os chamados Tigres Asiáticos se destacam no cenário econômico mundial como países que:
- possuem uma cultura oriental, valorizam a disciplina, a educação, o trabalho, possuem um acentuado orgulho nacional e são detentores de um sistema escolar acessível a todos.
 - alcançaram um grande desenvolvimento econômico-social no pós-Segunda Guerra Mundial, período 1950-1960.
 - têm como integrantes a China e a Índia, que vêm alcançando elevadas taxas de crescimento econômico, nas últimas décadas.
 - iniciaram o seu processo de industrialização via a substituição das importações.
 - associaram, ao grande desenvolvimento industrial, um desenvolvimento, também, das atividades agrárias.

08. Fazendo-se uma reflexão sobre a questão da degradação do meio ambiente provocada pela forma como o homem atua no espaço geográfico, explorando os recursos com vistas à satisfação das suas necessidades, é correto afirmar que.

- 1) a urbanização de uma área provoca uma diminuição das médias de temperaturas e dos índices pluviométricos.
- 2) a ascensão do ar frio superficial e a queda do ar quente elevado são responsáveis pela inversão térmica.
- 3) os problemas ambientais se fazem presentes tanto na prática da agricultura tradicional, como, especificamente, na agricultura moderna.
- 4) a ausência ou a pouca presença de áreas verdes é fator agravante da poluição atmosférica nas grandes cidades.
- 5) apesar das idéias divulgadas por alguns estudiosos até os anos 80, do século XX, de que os problemas ambientais eram uma característica das economias de mercado e não dos Estados de economia planificada, hoje se sabe que a poluição está presente em qualquer dos sistemas econômico-sociais adotados.

Estão corretas apenas:

- A) 1, 2 e 4
- B) 3, 4 e 5
- C) 2 e 3
- D) 1, 2, 3 e 4
- E) 1, 3, 4 e 5

09. A questão ambiental, hoje, é bastante discutida no meio acadêmico e pela sociedade em geral, face às implicações que têm os problemas ambientais para a própria sobrevivência da humanidade. Assim, é cada vez maior a necessidade de se conservar e preservar o meio ambiente. Nessa perspectiva, a prática do Conservacionismo significa:

- A) guardar, deixar semi-intocado os recursos naturais.
- B) adotar uma política para que os países desacelerem os seus atuais níveis de crescimento econômico.
- C) utilizar os recursos naturais de forma racional.
- D) empregar os recursos em benefício da geração atual.
- E) manter uma preocupação essencialmente tecnológica.

10. O atual território nordestino foi ocupado a partir do Litoral-Mata, no Século XVI, com a cultura da cana-de-açúcar. Posteriormente, já no Século XVII, começou a penetração para o interior, partindo os colonizadores de dois pontos do litoral: Recife/Olinda e Salvador. É correto afirmar que esta penetração para o interior se deu através da atividade:

- A) silvicultura.
- B) extrativa vegetal.
- C) pecuária.
- D) mineradora
- E) abastecedora de gêneros aos centros do litoral.

11. No mundo globalizado, o desenvolvimento dos transportes tem uma grande importância para a competitividade de uma economia no mercado internacional. Sobre esse tema, analise as afirmações abaixo.

- 1) As modernas rodovias foram um invento do início do século XIX nos países desenvolvidos, substituindo as antigas estradas de ferro no transporte de pessoas e de cargas.
- 2) Os navios possuem especificações adequadas à tonelagem transportada e aos principais produtos demandados no mercado internacional.
- 3) Nova York e Roterdã são complexos portuários modernos, situados nos Estados Unidos.
- 4) Apesar do desenvolvimento dos transportes ferroviário e rodoviário, a rede fluvial é intensamente utilizada no Nordeste dos Estados Unidos.
- 5) Ao contrário do que ocorre nos países subdesenvolvidos, o transporte ferroviário continua sendo importante em países da Europa Ocidental, nos Estados Unidos, no Japão e na Rússia, onde chega a formar uma densa malha.

Estão corretas apenas

- A) 1, 2 e 3
- B) 2, 3 e 4
- C) 1, 4 e 5
- D) 2, 4 e 5
- E) 1, 3 e 5

12. As regiões geográficas brasileiras possuem uma série de características históricas, naturais, econômicas e sociais que as identificam e as distinguem umas das outras. Assim, ao se falar sobre o Nordeste brasileiro, é correto afirmar que:

- A) esta região apresenta uma grande diversidade de paisagens, que são resultado de diferentes quadros de ocupação e uso do solo, levando à existência, em seu espaço, de várias sub-regiões que também possuem características próprias que as distinguem uma das outras.
- B) historicamente, foi a primeira região do país a ser ocupada pelos colonizadores, tanto que, até hoje, é a área que detém uma maior densidade demográfica.
- C) segundo dados do IBGE, no período 1991/2000, foi o Nordeste uma das regiões brasileiras a apresentar uma elevada taxa de crescimento demográfico, tendo sido suplantado apenas pela região Centro-Oeste.
- D) a área dos cerrados baianos e piauienses, onde, nesses últimos anos, vem se desenvolvendo uma intensa atividade agrícola, apresenta uma grande fertilidade natural.
- E) o Nordeste é uma das regiões que mais participa do Produto Interno Bruto brasileiro. Sua participação se situa em um patamar superior a 30% do total.

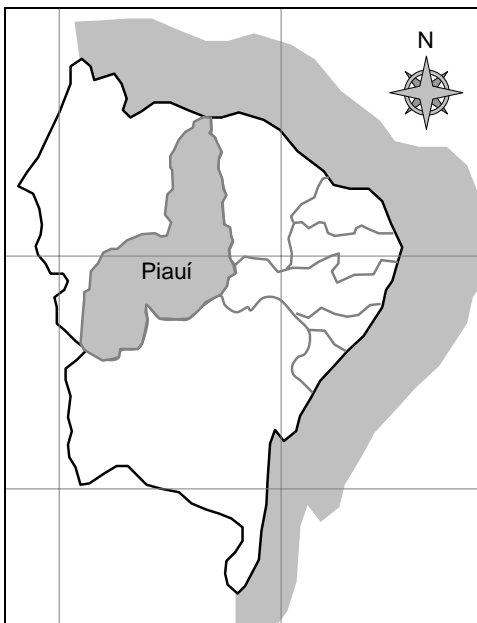
13. O espaço geográfico mundial possui inúmeras regionalizações em função dos objetivos e critérios que são estabelecidos para definir estas áreas. Uma dessas regionalizações diz respeito aos blocos econômicos. Em relação a esses blocos, é correto afirmar o que segue.

- 1) A Apec é um bloco constituído por países que integram a Oceania, o Sudeste e o Leste da Ásia e, nas Américas, países banhados pelo oceano Pacífico.
- 2) O Mercado Comum do Sul (Mercosul) é formado por países, que são membros plenos e membros associados. O Chile é um dos países que faz parte do bloco como membro associado.
- 3) Ao estudarmos a evolução histórica da formação dos blocos econômicos, vemos que eles tiveram início a partir dos anos 80 do século passado.
- 4) Um mesmo país pode pertencer a mais de um bloco econômico, a exemplo do Canadá e dos Estados Unidos.
- 5) Os blocos econômicos são constituídos por países que, na regionalização de mercado, pertencem ao grupo de países centrais e mercados emergentes. Ainda está em discussão a formação de blocos integrados pelas economias periféricas.

Estão corretas

- A) 1, 2 e 3 apenas
- B) 2, 3 e 5 apenas
- C) 3, 4 e 5 apenas
- D) 1, 2, e 4 apenas
- E) 1, 2, 3, 4 e 5

14. Observe o mapa abaixo, correlacionando-o com as proposições apresentadas em seguida.



- 1) Face a sua configuração, o Piauí faz limites na sua porção oriental com o Ceará e Pernambuco, enquanto, na sua porção meridional, se limita com a Bahia.
- 2) As unidades político-administrativas que se limitam com o Piauí representam 50% dos Estados da Região Nordeste.
- 3) Observa-se que o Estado possui uma forma longitudinal, alongada no sentido Norte-Sul.

- 4) O Piauí, juntamente com o Maranhão, ocupa a porção ocidental do espaço nordestino.
- 5) Na região Nordeste, o Piauí, o Maranhão e a Bahia fazem parte da sub-região do Meio Norte.

Estão corretas apenas:

- A) 1, 2 e 3
- B) 1, 2 e 4
- C) 1 e 4
- D) 2, 3 e 4
- E) 3, 4 e 5

15. Ainda sobre algumas características espaciais do Estado do Piauí, é correto afirmar o que segue.

- 1) O Piauí é uma das unidades político-administrativas brasileiras que teve as suas fronteiras alteradas ao longo do seu processo histórico de formação.
- 2) Apesar de possuir algumas questões fronteiriças já resolvidas, outras existem que são consideradas como áreas de litígio, a exemplo daquela com o Ceará, na serra de Dois Irmãos.
- 3) A configuração apresentada pelo Estado se prende ao próprio processo de colonização e ocupação do espaço que nele se efetivou.
- 4) De acordo com a divisão regional feita pelo IBGE, em mesorregiões e microrregiões geográficas, o município de Teresina faz parte da mesorregião Centro-Norte piauiense e da microrregião de Teresina.
- 5) A preação de índios e a evangelização pelos jesuítas das tribos existentes nas terras do atual Estado foram as atividades responsáveis pelo povoamento do espaço piauiense.

Estão corretas:

- A) 1 e 5 apenas
- B) 2, 3 e 4 apenas
- C) 1, 2 e 3 apenas
- D) 1, 3 e 4 apenas
- E) 1, 2, 3, 4 e 5

16. A Terra é o terceiro planeta do Sistema Solar e o único que registra a ocorrência de vida, segundo os conhecimentos científicos disponíveis até a presente data. Esse planeta possui diversos movimentos, alguns dos quais com expressivas repercussões geográficas. Entre as repercussões do movimento de rotação da Terra, podem ser mencionados:

- 1) o desvio de Coriolis.
- 2) a ocorrência do afélio.
- 3) a precessão dos equinócios.
- 4) o desvio dos ventos alísios.
- 5) o circuito das principais correntes marinhas.

Estão corretas apenas:

- A) 1 e 2
- B) 2 e 5
- C) 1, 2 e 3
- D) 1, 4 e 5
- E) 3, 4 e 5.

17. Os fusos horários correspondem, teoricamente, ao espaço longitudinal que o Sol percorre, em seu movimento aparente diário em torno da Terra, durante uma hora. Assinale o valor em graus de um fuso horário teórico:

- A) 24°
- B) 12°
- C) 15°
- D) 90°
- E) 10°


18. “A avaliação dos recursos hídricos disponíveis, tanto nos mananciais de superfície quanto nos mananciais de subsuperfície, constitui-se numa preciosa informação para os diversos setores da sociedade, visto que a água representa um recurso fundamental, mormente para a Região Nordeste, face à irregularidade das precipitações pluviométricas e aos graves problemas sociais e econômicos decorrentes da estiagem.” (Fonte: IBGE). Com base no texto acima, é correto afirmar que:

- 1) os mananciais de subsuperfície encontram-se muito mais dependentes das condições atmosféricas reinantes numa determinada área do que da litologia existente.
- 2) os recursos hídricos de superfície em regiões secas, como o Sertão nordestino, não são importantes, pois o escoamento superficial é muito rápido e provoca erosão do solo.
- 3) as formações rochosas areníticas facilitam a infiltração das águas oriundas das precipitações pluviais e o lençol freático.
- 4) as irregularidades pluviométricas do semi-árido brasileiro devem-se, sobretudo, à existência de uma notável barreira orográfica - o Planalto da Borborema - que intercepta os fluxos de ar úmido vindos da parte ocidental da região.

Está(ão) correta(s) apenas:

- A) 3
- B) 4
- C) 1 e 4
- D) 2 e 3
- E) 1, 2 e 4

19. Observe atentamente a paisagem geomorfológica esboçada a seguir e depois identifique-a.



- A) Planície lacustre.
- B) Pediplano cristalino
- C) Falésia sedimentar
- D) Cuesta
- E) Pedimento detrítico.

20. Nas afirmativas a seguir, são feitas algumas considerações sobre o meio natural do Piauí. Identifique aquelas que estão corretamente formuladas.

- 1) A maior parte do Piauí se situa em terrenos cristalinos, de idade pré-cambriana, relativamente ricos em recursos minerais de subsuperfície.
- 2) Em face do baixo relevo costeiro, os ventos que sopram para o interior do Estado são canalizados pelo vale do Parnaíba, podendo atingir, inclusive, Teresina.
- 3) No alto-médio Parnaíba são encontradas feições de relevo tabular, uma topografia relativamente plana, conhecidas como Chapadões do Sul do Piauí.
- 4) Uma das características marcantes das caatingas observadas no território piauiense é o xeromorfismo das espécies vegetais.

Estão corretas:

- A) 1 e 2 apenas
- B) 1 e 4 apenas
- C) 2 e 4 apenas
- D) 2, 3 e 4 apenas
- E) 1, 2, 3 e 4

21. Uma das principais atitudes que prejudicam as florestas é o desmatamento. Metade das florestas do mundo, segundo estimativas internacionalmente aceitas, já foi destruída. Entre as conseqüências principais desse processo, podem ser citadas as seguintes, **exceto**:

- A) enchentes dos rios.
- B) diminuição da biodiversidade.
- C) decréscimo do assoreamento dos canais fluviais.
- D) proliferação de pragas e doenças.
- E) empobrecimento dos solos.

22. Analise o texto a seguir.

“Cinco anos após o fim de uma das piores guerras civis da história africana, essa nação, movida pelo boom do petróleo, tornou-se o país que mais cresce no mundo. A previsão para 2008 é um salto de 27,2% do PIB do país, segundo o Fundo Monetário Internacional, o maior entre 180 países. (...) O país enche os cofres com o petróleo (e, em menor escala, com diamantes), mas cresce tanto por partir de uma base dilacerada por 27 anos de um conflito que envolveu marxistas-leninistas, cubanos, a CIA e guerrilheiros financiados pelo *apartheid* sul-africano. O saldo foi de 1 milhão de mortos e 4 milhões de refugiados.” (Adaptado do jornal *A Folha de São Paulo*, 4/11/2007).

Com base nas informações contidas no texto, assinale o número que, no mapa, corresponde a esse país.

- A) 1
- B) 2
- C) 3
- D) 4
- E) 5



23. No mapa a seguir, há uma área pontilhada. Essa área, que se notabiliza pela instabilidade tectônica, está contida numa unidade geológica conhecida como:



- A) Escudos Americanos.
 B) Sistema de Dobramentos Modernos.
 C) Dorsal do Pacífico.
 D) Bacia Sedimentar Pacífica.
 E) Maciços Residuais Cristalinos.
24. A escala numérica é um dos principais e indispensáveis componentes de um mapa. Sem escala, o mapa não tem valor geográfico. Vamos supor que você foi encarregado de realizar um estudo sobre a estrutura fundiária do Piauí. Para essa tarefa, lhe foram fornecidos cinco mapas em escalas diversas. Assinale aquela que fornece um maior nível de detalhe.
- A) 1: 1.000.000
 B) 1: 500.000
 C) 1: 600.000
 D) 1: 2.500.000
 E) 1: 250.000
25. Uma grande parte da crosta terrestre, especialmente na porção mais superficial, encontra-se no domínio das rochas sedimentares. A seguir, apresentam-se algumas das principais características gerais dessas rochas. Uma dessas, contudo, **não** corresponde à realidade. Assinale-a.
- A) São afossilíferas.
 B) São excelentes reservatórios hídricos.
 C) Podem apresentar estratificação
 D) Podem originar, em alguns casos, cavernas.
 E) São, em geral, porosas e permeáveis.
26. Identifique a bacia hidrográfica descrita, a seguir.

“Essa bacia foi desmembrada da bacia Amazônica pelo IBGE. É a maior bacia em território nacional, com uma área de 808.150km². O seu principal rio nasce em Goiás, mais especificamente na confluência dos rios Maraion e Paraná e deságua na foz do Amazonas, PA. Seu potencial hidrelétrico é parcialmente utilizado pela usina de Tucuruí.”

Trata-se da bacia do:

- A) Araguaia.
 B) Paranaíba.
 C) Mearim.
 D) Tocantins.
 E) Araguari.

27. “A maior jazida brasileira desse mineral (utilizado na indústria automobilística, aeronáutica) situa-se no vale do Rio Trombetas, no município de Oriximiná, e foi descoberta em 1966 pela multinacional canadense ALCAN. Para exploração do mineral, o Projeto Trombetas incluiu a construção de um porto e de uma ferrovia, ligando a mina à usina de beneficiamento situada junto ao porto.”

(Adaptado de COELHO, Marcos de Amorim & TERRA, Lygia. *Geografia do Brasil*, Ed. Moderna, 2005)

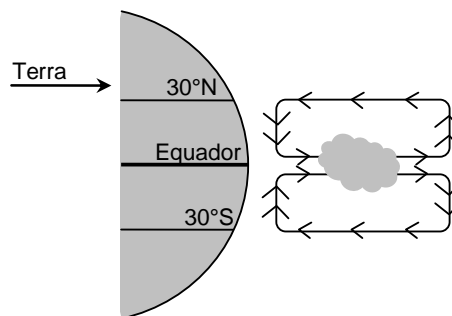
Qual o mineral a que se refere o texto?

- A) Manganês
 B) Bauxita
 C) Tungstênio
 D) Cobre
 E) Apatita.

28. Quando o Sol, em seu movimento aparente anual ao redor da Terra, “toca” a linha do Equador, diz-se que ocorre:

- A) o solstício de verão.
 B) o solstício de inverno.
 C) a maré de sizígia.
 D) o equinócio.
 E) a maior diferença de duração dos dias e das noites.

29. Observe atentamente o desenho a seguir.



O gráfico mostra, esquematicamente, a formação de um importante sistema atmosférico. Assinale-o.

- A) Monções de verão.
 B) Brisas hemisféricas.
 C) Zona de Convergência Intertropical.
 D) Zona de Convergência do Atlântico Sul.
 E) Monções de inverno.

30. “Não obstante a expansão urbana não ter sempre um crescimento igual, as cidades aumentam com “tentáculos axiais”. As cidades se estendem ao longo das principais artérias, rodovias e linhas férreas. Por meio desse processo, as cidades chegam a outros lugares urbanos. O conjunto urbano não se expande somente através de zonas despovoadas. Outras cidades existem nas vizinhanças com as quais elas se acham em contato.”

Qual o tema que é diretamente analisado no texto?

- A) O sítio urbano
 B) As migrações pendulares
 C) A conurbação
 D) O êxodo rural-urbano
 E) A posição axial da cidade numa mesorregião

HISTÓRIA

- 31.** A construção da história requereu lutas contra as dificuldades naturais e grande capacidade de invenção. Muitas reflexões filosóficas foram importantes para pensar a condição da cultura. Os sofistas contribuíram com essas reflexões, quando:
- A) defenderam a relatividade, mostrando as impossibilidades para se chegar à verdade universal.
 - B) confirmaram as teorias políticas de Sócrates, ressaltando o valor da república democrática.
 - C) seguiram os ensinamentos do cristianismo, fundando uma religião sem rituais e hierarquias.
 - D) ampliaram as dimensões da filosofia platônica, afirmando a força do idealismo estético para a arte.
 - E) criticaram as idéias de Aristóteles, embora aceitassem suas reflexões sobre os fundamentos da verdade.
- 32.** É notável o destaque do teatro grego na Antigüidade Clássica. As suas comédias e as suas tragédias eram bem vistas pelo público e:
- A) restringiam-se a abordar os dramas dos deuses gregos, sobretudo suas aventuras amorosas e bélicas.
 - B) encenavam momentos da história dos gregos, exaltando a invulnerabilidade dos seus mitos.
 - C) procuravam discutir problemas existenciais dos seres humanos e suas dificuldades para superá-los.
 - D) se restringiam a narrar a vida urbana, destacando seus problemas com os governos autoritários.
 - E) tinham forte relação com a religião, mas desprezavam as crises sentimentais dos humanos.
- 33.** As dificuldades de administrar o Império Romano traziam problemas para os seus governantes. O imperador Constantino (313-337) tentou amenizar essas dificuldades:
- A) editando a Lei Máxima, para controlar o excesso de impostos.
 - B) dividindo o Império politicamente, privilegiando os cidadãos romanos.
 - C) concedendo liberdade de culto aos cristãos, procurando conquistá-los politicamente.
 - D) proibindo o aumento dos latifúndios, promovendo uma reforma agrária.
 - E) eliminando os poderes do Senado, centralizando os poderes nas Assembléias.
- 34.** As guerras tomavam conta da vida dos senhores feudais nas conquistas territoriais e nas suas aventuras de exercício de coragem. Para diminuir a intensidade das guerras, a Igreja Católica instituiu a Paz de Deus e as Tréguas de Deus, que:
- A) proibiam os conflitos entre os senhores feudais, punindo-os com a Inquisição.
 - B) exigiam respeito religioso entre eles, ordenando o uso apenas de mercenários.
 - C) limitavam as guerras a certos períodos do ano, melhorando a relação entre eles.
 - D) evitavam a participação dos servos nos conflitos, livrando-os da violência.
- 35.** O surgimento da burguesia aconteceu com a intensificação das atividades comerciais na Idade Média, ajudando no seu crescimento material. O surgimento da burguesia trouxe:
- A) o fim imediato do sistema feudal.
 - B) o esvaziamento do poder da Igreja Católica.
 - C) o fortalecimento dos senhores feudais.
 - D) o término do absolutismo político.
 - E) a busca de maiores lucros nos negócios.
- 36.** O soberano bizantino tinha ligações com a religião e boa relação com os sacerdotes. Numa análise dos governos bizantinos da época medieval, fica evidente:
- A) o poder exagerado da aristocracia, inibindo o soberano.
 - B) a atuação de uma forte burocracia fiscalizadora.
 - C) o caráter divino do soberano, onipotente para todos.
 - D) a descentralização administrativa nos negócios.
 - E) a participação exclusiva dos sacerdotes na política.
- 37.** A existência de heresias mostra descontentamentos com o poder da Igreja Católica na Idade Média, a qual:
- A) tinha um poder econômico que não correspondia ao poder político.
 - B) limitava-se a administrar a fé e os rituais religiosos existentes.
 - C) influenciava no mundo político, aliada aos membros da nobreza.
 - D) restringia sua atuação cultural à produção intensa de textos sagrados.
 - E) seguia os ensinamentos religiosos expressos pela ordem franciscana.
- 38.** A guerra dos Cem Anos (1337-1453) tumultuou a vida política da Europa. De fato, essa guerra:
- A) envolveu a França e a Inglaterra, com a participação também decisiva da Espanha.
 - B) quebrou a economia européia, interrompendo todo comércio de especiarias com o Oriente.
 - C) acabou com os privilégios da nobreza francesa e com a organização da monarquia constitucional.
 - D) teve a participação da camponesa Joana D'Arc, integrada e atuante no exército francês.
 - E) firmou a liderança política da Inglaterra, com a chegada do absolutismo de Henrique IV.
- 39.** O Renascimento contou com a participação de mecenas que financiavam obras de grandes artistas da época. Além disso, recebeu forte influência cultural dos:
- A) fenícios.
 - B) gregos.
 - C) egípcios.
 - D) judeus.
 - E) sumérios.

- 40.** Ocupar as terras era fundamental para garantia dos domínios portugueses depois do descobrimento do Brasil. Por exemplo, a expedição de Martim Afonso de Souza:
- A) fundou a rica capitania de Pernambuco.
 - B) introduziu a lavoura da cana-de-açúcar.
 - C) facilitou a ocupação da região amazônica.
 - D) distribuiu sesmarias onde hoje se encontra o Piauí.
 - E) lançou o cultivo do algodão na região sudeste.
- 41.** As Companhias de Comércio no século XVIII tiveram importância para o funcionamento da economia colonial no Brasil. Essas companhias:
- A) conseguiram livrar a cultura do algodão da crise do século XVIII.
 - B) criaram condições para a recuperação do comércio do ouro em Minas.
 - C) permaneceram atuantes durante as primeiras décadas do século XIX.
 - D) correspondiam aos interesses políticos atuantes do Marquês de Pombal.
 - E) foram financiadas por capitais ingleses e holandeses desde o século XVI.
- 42.** O barroco espanhol teve destaque nas obras do pintor Diogo Velazquez. Seus quadros, entre eles *As Meninas*, revelavam:
- A) um apego à estética greco-romana com o uso de figuras mitológicas.
 - B) uma excessiva religiosidade e exaltação dos santos católicos famosos.
 - C) um grande jogo de luzes e sombras na composição de suas figuras.
 - D) um desprezo pelas figuras da corte, registrando apenas o cotidiano.
 - E) um domínio das técnicas renascentistas, ressaltando o nu artístico.
- 43.** A pecuária trouxe benefícios para a economia colonial brasileira e ajudou na ocupação de regiões do interior. A pecuária:
- A) desenvolveu-se inicialmente, sem dificuldades para sua implantação, no sertão nordestino.
 - B) centralizou toda a sua produção na região sudeste, favorecida pelas chuvas comuns na região.
 - C) era desconectada da produção açucareira, não usando mão-de-obra escrava em suas atividades.
 - D) ajudou no regime alimentar da colônia, utilizando também, em seus trabalhos, a mão-de-obra nativa.
 - E) deu grandes lucros no século XVIII, com exportações para a Europa, no período da Revolução Francesa.
- 44.** No século XVI, foi expressiva a disputa dos europeus para aumentar suas riquezas e sua influência no mundo da época, inclusive se utilizando da pirataria. Os piratas mais atuantes levavam ouro e prata para as nações a que pertenciam, ajudando aos seus soberanos. Destacam-se, nessa época, os piratas:
- A) franceses.
 - B) holandeses.
 - C) ingleses.
 - D) espanhóis.
 - E) portugueses.
- 45.** As mudanças trazidas pelo Iluminismo foram a base de muitas concepções políticas e sociais da modernidade. Na filosofia, novas formas de pensar desafiaram conceitos tradicionais. Foi muito importante para o pensamento ocidental moderno a obra do alemão Kant, intitulada:
- A) O Discurso do Método.
 - B) A Crítica da Razão Pura.
 - C) O Dicionário Filosófico.
 - D) O Contrato Social.
 - E) O Vermelho e o Negro.
- 46.** Analise as afirmativas abaixo relacionadas com a chegada da família real, em 1808, ao Brasil.
- 1) D. João tomou medidas que diminuíram os efeitos da opressão econômica portuguesa sobre o Brasil.
 - 2) Apesar das medidas modernizadoras, D. João manteve o monopólio comercial sobre a colônia.
 - 3) As medidas econômicas de 1808 favoreceram diretamente o cultivo do algodão nas regiões do Piauí e do Maranhão.
 - 4) Os ingleses conseguiram grande espaço de ação no Brasil com a vinda de D. João, aumentando sua participação econômica.
 - 5) O Rio de Janeiro passou por reformas urbanas e cresceu politicamente no Brasil da época de D. João.
- Estão corretas apenas:
- A) 1, 2 e 3
 - B) 2, 3 e 4
 - C) 3, 4, e 5
 - D) 1, 4 e 5
 - E) 2, 4 e 5
- 47.** Os processos históricos de emancipação das nações latino-americanas mostraram a opressão que essas nações viveram sob o jugo dos países europeus. No caso do Brasil, essa emancipação, em 1822:
- A) representou o afastamento definitivo da política portuguesa.
 - B) teve influência marcante das idéias socialistas e libertárias.
 - C) conservou relações tradicionais, decepcionando os mais radicais.
 - D) foi incentivada pela Inglaterra, provocando o fim da escravidão.
 - E) trouxe mudanças sociais importantes para as regiões mais pobres.

- 48.** No século XIX, a sociedade burguesa conseguiu avançar, incentivando o capitalismo e a industrialização. No campo das idéias, o positivismo do francês Auguste Comte:
- A) criticava as filosofias materialistas, defendendo o idealismo iluminista.
 - B) argumentava a favor de uma história evolutiva e progressista.
 - C) considerava a ciência e a religião como dons supremos do homem.
 - D) desprezava a evolução, vendo a história como repetição e tradição.
 - E) teve repercussões apenas no pensamento europeu do século XIX.
- 49.** A grande crise econômica mundial de 1929 contribuiu para:
- A) o fortalecimento do socialismo, com a queda brusca da hegemonia norte-americana.
 - B) o crescimento imediato dos países latino-americanos na opção por políticas anti-inflacionárias.
 - C) o aumento da tensão política, criando condições para consolidar os regimes totalitários.
 - D) o fim das democracias populares na Europa, sobretudo as mais tradicionais e históricas.
 - E) o declínio momentâneo do sistema capitalista, o qual se recuperou mesmo antes da 2ª. Guerra Mundial.
- 50.** O período político dominado pelo Vargasismo teve grandes repercussões na formação política do Brasil contemporâneo. A figura do líder Getúlio Vargas, depois da sua morte:
- A) foi rapidamente esquecida pelos governos mais recentes, por ter combatido o nacionalismo e o populismo.
 - B) continuou inspirando muitas lideranças políticas, aproveitadoras da popularidade de Vargas e do seu carisma.
 - C) serviu de base para a manutenção do nacionalismo de alguns partidos, devido à existência das mesmas políticas sindicais.
 - D) entrou em declínio, sendo lembrado apenas pelas gerações mais antigas como defensor dos mais pobres.
 - E) consolidou-se na memória política brasileira, sendo cultuado pelos grandes partidos políticos conservadores.
- 51.** Analise as afirmativas abaixo relacionadas com os governos dos militares no Brasil, nas décadas de 60 e 80.
- 1) O governo de Castelo Branco evitou adotar medidas autoritárias e preservou o Congresso Nacional.
 - 2) A cassação de parlamentares prejudicou, politicamente, a organização das resistências democráticas.
 - 3) O movimento militar de 1964 representou apenas uma iniciativa das forças tradicionais do Nordeste.
 - 4) A queda do governo de João Goulart não significou o fim dos grupos socialistas no Brasil.
- 5) Os governos de Geisel e João Figueiredo tomaram medidas para diminuir a censura política e ideológica.
- Estão corretas apenas:
- A) 2, 3 e 5
 - B) 2, 4 e 5
 - C) 1, 3 e 4
 - D) 3, 4 e 5
 - E) 1, 2 e 3
- 52.** As desigualdades sociais e as tensões políticas continuam inquietando as relações sociais no mundo atual. Nesse contexto de instabilidade, a América do Sul tem conseguido, nos últimos anos, em suas nações:
- A) livrar-se das ditaduras militares, fundando partidos democráticos e revolucionários.
 - B) criar órgãos econômicos eficazes, modernizando-se e extinguindo a inflação.
 - C) obter resultados eficientes na industrialização, devido à grande ajuda dos Estados Unidos.
 - D) agilizar suas instituições democráticas, com o fim das práticas populistas e centralizadoras.
 - E) manter uma certa estabilidade política, apesar das inúmeras contradições sociais.
- 53.** As experiências democráticas nos mostram as dificuldades de se construir uma sociedade sem desigualdades. Desde os históricos tempos da Grécia Antiga, pode-se constatar:
- A) uma socialização do poder político, mas sem distribuição justa da riqueza material produzida por todos.
 - B) uma constante disputa pelo poder político, marcada por restrições às liberdades sociais e econômicas.
 - C) uma constante apatia popular diante da luta política, criando condições para as vitórias dos mais ricos.
 - D) uma ampliação das liberdades, com a universalização dos direitos, desde o século XVII com o Iluminismo.
 - E) uma falta de um melhor exercício das práticas políticas democráticas, com a concentração dos poderes econômicos.
- 54.** O Estado do Piauí enfrentou dificuldades para modernizar a sua economia e ainda convive com muitas contradições sociais. Historicamente, alguns produtos são destacados, entre eles, os derivados da carnaúba, a qual:
- A) continua sendo amplamente explorada de forma atrasada e precária, não ajudando na modernização do Estado.
 - B) constitui uma riqueza importante para a atual economia do Estado pelo seu potencial econômico.
 - C) é muito cultivada e com mais êxito, também, no Ceará e no Maranhão, promovendo a economia local.
 - D) caiu em desuso; de fato, foi cultivada, com eficácia e em grande quantidade, apenas no século passado.
 - E) deixou de ser explorada apenas recentemente devido à falta de investimentos.

- 55.** A mitificação de Che Guevara tem sido acompanhada pela propaganda política e também pelas marcas de roupa conhecidas no mundo do consumo capitalista. Essa mistura da política com o mercado capitalista exemplifica historicamente que:
- A) morreram as utopias, e a sociedade de consumo se perpetua.
 - B) limitaram-se às práticas de mercado no ocidente europeu.
 - C) multiplicaram-se as estratégias de dominação política no mundo.
 - D) extinguiram-se os espaços políticos da transgressão e da desordem.
 - E) esvaziaram-se, com a globalização, todas as formas de socialismo.
- 56.** Numa análise do comportamento dos partidos políticos brasileiros, um deles se destaca pela constante oposição a Getúlio Vargas e a suas propostas. Estamos nos referindo:
- A) ao Partido Comunista do Brasil.
 - B) à União Democrática Nacional.
 - C) ao Partido dos Trabalhadores.
 - D) ao Movimento Democrático Brasileiro.
 - E) à Aliança Renovadora Nacional.
- 57.** Os Estados Unidos mantêm prestígio político no mundo contemporâneo, conservando seus espaços de hegemonia. No entanto, não se pode negar que esse país:
- A) enfrenta desigualdades e problemas sociais internos de violência.
 - B) perdeu suas alianças políticas com os países amigos da Europa.
 - C) conseguiu firmar uma política de paz e estabilidade no mundo.
 - D) defendeu as liberdades democráticas em todos os países do Ocidente.
 - E) consolidou-se como potência desde a sua emancipação no século XVIII.
- 58.** A corrida espacial exigiu grandes investimentos financeiros e inspirou a criação de heróis e de aventuras de ficção científica. Com a concretização do famoso projeto Apolo, os Estados Unidos:
- A) conseguiram levar o homem à Lua.
 - B) perderam seu prestígio científico.
 - C) lançaram o primeiro homem no espaço.
 - D) tiveram êxito em todas as etapas de execução.
 - E) consagraram o governo de Richard Nixon.
- 59.** Tendo o Partido de Renovação Nacional como suporte político, Fernando Collor fez uma carreira fulminante rumo à presidência do Brasil. O seu polêmico Plano Collor:
- A) levou três meses para ser executado pela Ministra Zélia Cardoso.
 - B) foi um grande sucesso, derrotando a inflação e equilibrando as finanças.
 - C) criou esperanças, pois foi adotado logo após a sua posse na presidência.
 - D) serviu para erradicar a inflação e promover o assistencialismo social.
 - E) teve o forte apoio das elites econômicas durante todo o seu governo.
- 60.** A inserção das obras culturais brasileiras, no mundo da globalização, tem sido bem aceita em muitas áreas. No cinema, recentemente, tem merecido destaque a obra de:
- A) Walter Salles.
 - B) Nelson Pereira dos Santos.
 - C) Bruno Barreto.
 - D) Anselmo Duarte.
 - E) Paulo Saraceni.